



**Evaluación características de América,
recursos y mapas
Historia, Geografía y Ciencias Sociales**

Nº 7/UNIDAD "2"
4º Básico
Prof.: Camilo Rojas
camilo.rojas@soceduc.cl

Nombre: _____ Curso: _____

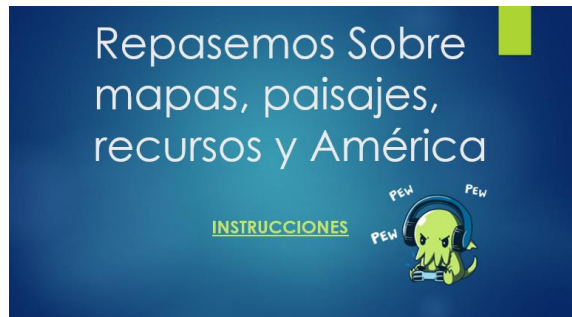
IMPORTANTE:

*Esta actividad debe ser realizada en el cuaderno, sin necesidad de ser impresa. Debe enviar sus respuestas mediante una fotografía de la siguiente tabla con las respuestas en ellas. Debe enviar esta fotografía al siguiente correo camilo.rojas@soceduc.cl en el asunto del correo debe **escribir el curso, nombre del estudiante y evaluación de historia 2** La fecha de Entrega es el **VIERNES 12 DE JUNIO** Si es enviada luego de la fecha, indique el motivo en el correo.*

**Evaluación Características de América, recursos y mapas
Historia, Geografía y Ciencias Sociales**

Nombre: _____ Curso: _____

ANTES DE COMENZAR ESTA EVALUACIÓN REFUERZA Y PRACTICA CON EL PPT



Recuerda hacer la tabla y escribir en ella, la alternativa que selecciones.

Pregunta	Alternativa
1	
2	
3	
4	
5	
6	
7	
8	
9	
10	
11	
12	
13	

En esta primera sección deberás indicar qué tipo de mapa es y la información que entrega en cada caso, para ello deber observar con atención cada una de las imágenes

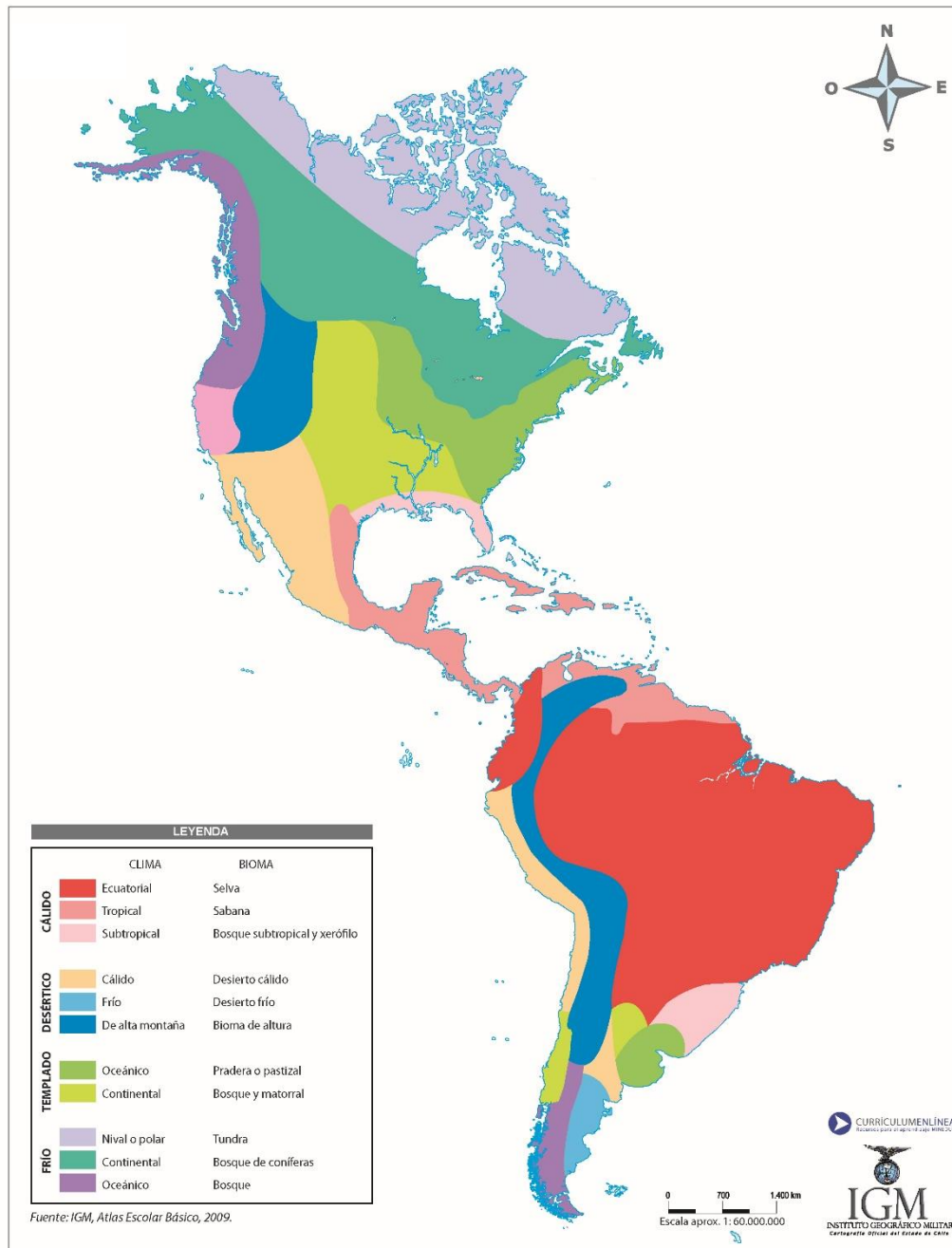
1. Observa el mapa:



¿Qué tipo de mapa es y qué información entrega?

- A. Mapa político, muestra las fronteras (divisiones entre países) que conforman América.
- B. Mapa Físico, muestra el relieve de América, además de las principales fuentes de agua.
- C. Mapa Climático, muestra los diferentes climas presentes en América y su bioma.

2. Observa el mapa:



¿Qué tipo de mapa es y qué información entrega?

- A. Mapa político, muestra las fronteras (divisiones entre países) que conforman América.
- B. Mapa Físico, muestra el relieve de América, además de las principales fuentes de agua.
- C. Mapa Climático, muestra los diferentes climas presentes en América y su bioma.

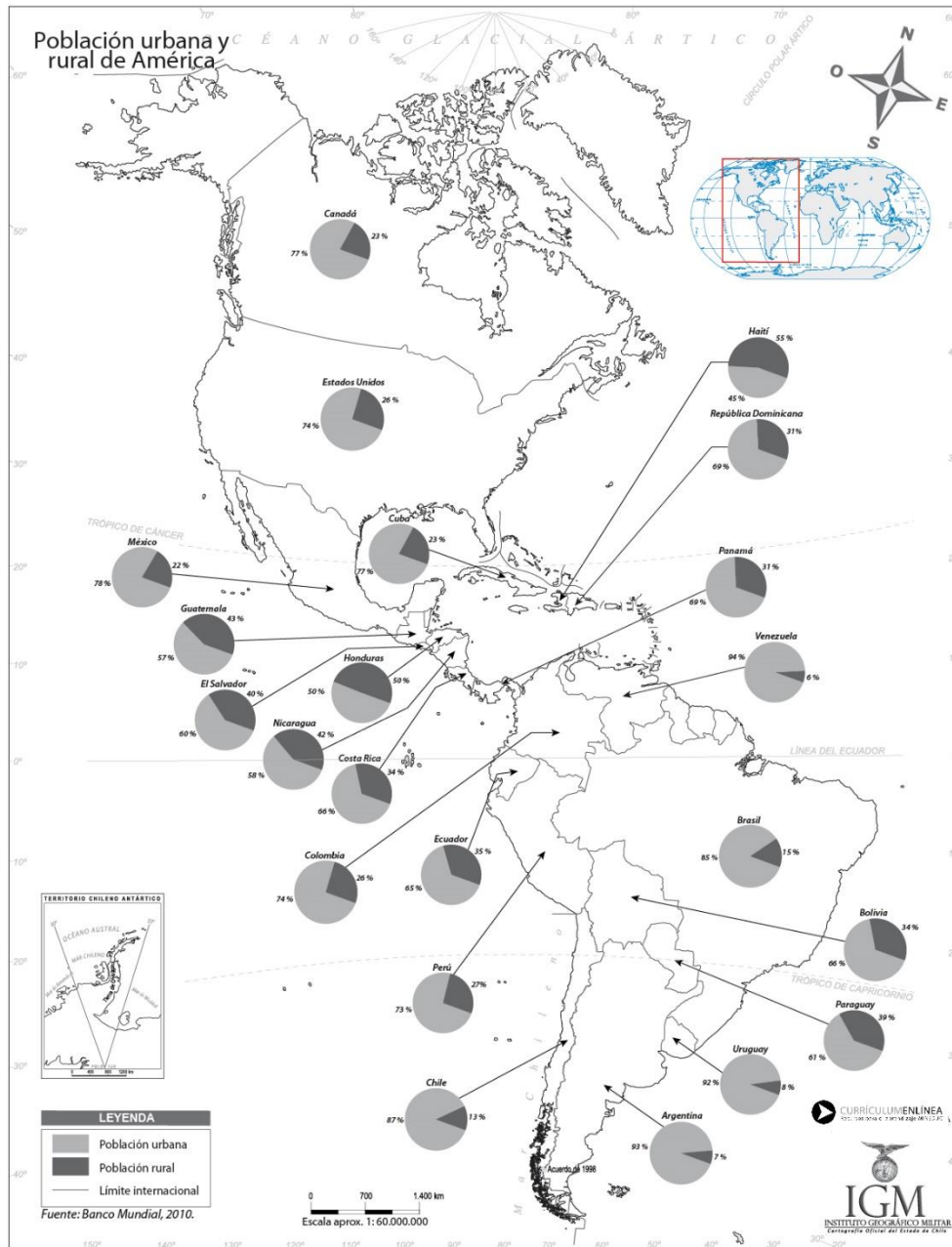
3. Observa el mapa:



¿Qué tipo de mapa es y qué información entrega?

- A. Mapa político, muestra las fronteras (divisiones entre países) que conforman América.
- B. Mapa Físico, muestra el relieve de América, además de las principales fuentes de agua.
- C. Mapa Climático, muestra los diferentes climas presentes en América y su bioma.

A continuación, debes observar este mapa de población urbana y rural de América y contestar la siguiente pregunta



4. ¿La mayor parte de las personas de América viven en zonas rurales (campo) o urbanas (ciudades)?

- A. La mayor parte de las personas habita en zonas rurales
- B. La mayor parte de las personas habita en zonas Urbanas
- C. Las personas habitan en igual cantidad en zonas urbanas y rurales

A continuación, debes identificar el paisaje que **NO** corresponde al clima mencionado

5. ¿CUÁL CLIMA NO CORRESPONDE?

Climas áridos y secos

Se ubican en general en torno a los trópicos. Se caracterizan por las escasas precipitaciones y por las grandes diferencias de temperatura durante el día y la noche.



La estepa cálida se localiza en América del Norte y del Sur. A pesar de sus escasas lluvias, posee suelos fértiles a los que se han adaptado diversos cultivos. La estepa fría, ubicada también ambas regiones de América. Presenta temperaturas más bajas y fuertes vientos durante todo el año. Pampas, estepa cálida de América del Sur.



Los desiertos están presentes tanto en América del Norte y del Sur. Son de extrema aridez, en ellos casi no llueve y su vegetación es escasa. Desierto de Sonora. América del Norte.




La sabana está presente solo en América del Sur. Es una extensa llanura donde crecen árboles bajos y abundante hierba. Llanos del Orinoco. Sabana de América del Sur.

6. ¿CUÁL CLIMA NO CORRESPONDE?

Climas templados

Predominan en las zonas templadas del norte y del sur. En ellos las estaciones del año presentan diferencias marcadas, con temperaturas moderadas durante gran parte del año.



EL paisaje mediterráneo se encuentra en América del Norte y del Sur. Presenta temperaturas moderadas y aunque sus suelos son pobres, en ellos existe una importante variedad de vegetación. Paisaje mediterráneo. California, América del Norte



Los bosques templados lluviosos están presentes en América del Norte y del Sur. En ellos predominan las lluvias todo el año. Permitiendo el crecimiento de grandes árboles. Bosque valdiviano. Chile, América del Sur.




Las selvas se ubican en las tres regiones americanas. Presentan abundantes lluvias y altas temperaturas, lo que ha permitido que en ellas exista la mayor diversidad de vida animal y vegetal. Selva de Costa Rica. América

7. ¿CUÁL CLIMA NO CORRESPONDE?

Climas cálidos o tropicales

Presentes principalmente al interior de la zona cálida. Se caracterizan por sus altas temperaturas y abundantes precipitaciones.



La taiga se ubica entre las tundras y las praderas de América del Norte. Se caracteriza por sus bosques fríos que en parte del año se cubren de nieve.
Taiga de Quebec. América del Norte

La sabana está presente solo en América del Sur. Es una extensa llanura donde crecen árboles bajos y abundante hierba
Llanos del Orinoco.
Sabana de América del Sur

Las selvas se ubican en las tres regiones americanas. Presentan abundantes lluvias y altas temperaturas, lo que ha permitido que en ellas exista la mayor diversidad de vida animal y vegetal
Selva de Costa Rica. América

En esta sección debes marcar a que categoría de recursos naturales corresponde cada grupo de imágenes, no renovables, renovables o "inagotables"

8. LA IMAGEN MUESTRA RECURSOS:



- A. Renovables
- B. No renovables
- C. Inagotables

9. LA IMAGEN MUESTRA RECURSOS:



- A. Renovables
- B. No renovables
- C. Inagotables

10. LA IMAGEN MUESTRA RECURSOS:



- A. Renovables
- B. No renovables
- C. Inagotables

En este último segmento debes indicar si las actividades de las imágenes corresponden a actividades primarias, secundarias o terciarias

11. LA IMAGEN MUESTRA ACTIVIDADES:



<ul style="list-style-type: none"> A. Primaria B. Secundaria C. Terciaria
--

12. LA IMAGEN MUESTRA ACTIVIDADES:



<ul style="list-style-type: none"> A. Primaria B. Secundaria C. Terciaria
--

13. LA IMAGEN MUESTRA ACTIVIDADES:



<ul style="list-style-type: none"> A. Primaria B. Secundaria C. Terciaria
--